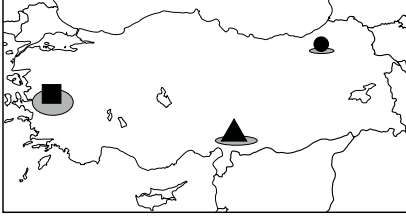


1.



Verilen haritadaki ▲, ●, ■ işaretlerinin ait olduğu cepheler, aşağıdakilerin hangisinde doğru sıralanmıştır?

- A) ▲ - Güney Cephesi B) ▲ - Güney Cephesi
● - Doğu Cephesi ● - Batı Cephesi
■ - Batı Cephesi ■ - Doğu Cephesi
- C) ▲ - Batı Cephesi D) ▲ - Doğu Cephesi
● - Doğu Cephesi ● - Batı Cephesi
■ - Güney Cephesi ■ - Güney Cephesi

2.

Doğu Cephesi	
Ermenilere karşı açılmıştır.	⇒ ?
Kâzım Karabekir görev yapmıştır.	⇒ ?
Kuvayimillîye'nin ilk başarısıdır.	⇒ ?

Verilen şemada "?" olan yerlere Doğu Cephesi ile ilgili verilen bilgilerin doğru olanlarına "D", yanlış olanlarına "Y" yazıldığında doğru sıralama aşağıdakilerden hangisi olur?

- A)

D
Y
D

 B)





D
D
Y
- C)

Y
Y
D

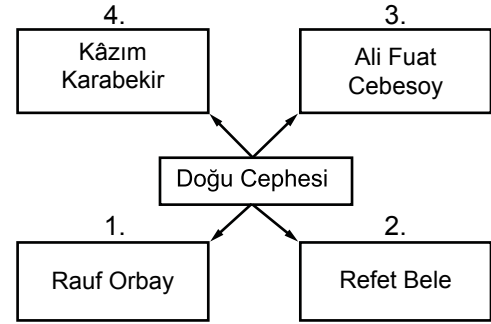
 D)

D
D
D

3. Kurtuluş Savaşı'nda Ermenilerle hangi cephelerde mücadele verdiğimizizi, aşağıdaki öğrencilerden hangisi doğru söylemiştir?

- A)  Sadece Doğu Cephesi'nde
Ayşe
- B)  Hem Doğu, hem de Güney Cephelerinde
Mahmut
- C)  Sadece Batı Cephesi'nde
Tülay
- D)  Hem Batı, hem de Güney Cephelerinde
İlyas

4.



Doğu Cephesi'nde Ermenilere karşı mücadele eden komutan, yukarıda verilenlerden hangisidir?

- A) 1. B) 2. C) 3. D) 4.

5. Birlik ve beraberlik içinde yapılan mücadele, şartlar ne kadar kötü olursa olsun başarı ile sonuçlanacaktır. Bunun tarihimizde en güzel kanıtı Kuvayimillîye birlikleri ile - - - -'nde verdiğimiz mücadeledir.

Öğretmenin yukarıda verdiği bilgide boş bırakılan yere aşağıdakilerden hangisi getirilmelidir?

- A) Güney Cephesi
B) Kanal Cephesi
C) Doğu Cephesi
D) Kafkas Cephesi

6. Türklerle yüzyıllardır beraber yaşayan Ermeniler, Rusya ve İngiltere'nin kışkırtmaları sonucu Doğu Anadolu'da bağımsız bir devlet kurmak için harekete geçmiş, birçok insanı öldürmüş, 1. Dünya Savaşı'nda Ruslarla birlikte hareket etmiştir. Bunu engellemek için Ermeniler, Tehcir Kanunu ile başka bölgelere göç ettirmişlerdir. Sevr Antlaşması ile kendilerine vaat edilen topraklar için tekrar saldıran Ermeniler'i, Kâzım Karabekir komutasındaki 15. Kolordu durdurmuştur.

Verilen bilgilerden aşağıdaki yargılardan hangisine ulaşamaz?

- A) Ermeni sorununda İngiltere ve Rusya'nın etkisi vardır.
B) Ermenilerin göç ettirilmesi ile Ruslarla işbirliği engellenmek istenmiştir.
C) Ermeniler barış yanlısı politika izlemiştir.
D) Ermenilerin amacı Doğu Anadolu'da bağımsız bir devlet kurmaktır.

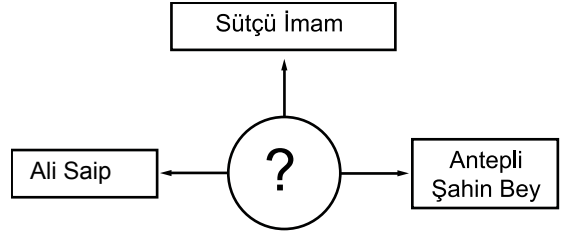
7.

TBMM'nin ilk açtığı cephe.	⇒	1
TBMM'nin ilk siyasi başarısıdır.	⇒	2
Kars ve Sarıkamış'ı alarak yendiğimiz devlettir.	⇒	3

Verilen tabloda numaralandırılmış yerlere ait olan özellikler, aşağıdakilerin hangisinde doğru sıralanmıştır?

- A) 1. Batı Cephesi
2. Doğu Cephesi
3. Fransa
- B) 1. Doğu Cephesi
2. Gümrü Antlaşması
3. Ermenistan
- C) 1. Güney Cephesi
2. Londra Antlaşması
3. Yunanistan
- D) 1. Güney Cephesi
2. Londra Antlaşması
3. Ermenistan

8.



Yukarıdaki şekilde verilen kişilerin ortak özellikleri aşağıdakilerden hangisidir?

- A) Yunanlılara karşı savaşmışlardır.
B) TBMM'ye karşı ayaklanmışlardır.
C) Güney Cephesi'nde mücadele etmişlerdir.
D) Batı Cephesi'nde savaşmışlardır.

9.

Maraş'ta halk direnişinin sembolü oldu.	+
Fransız ve Ermenilere karşı mücadele etti.	+
Üniversiteye adı verildi.	=
?	=

Verilen şemadaki özellikler incelendiğinde "?" olan yere aşağıdakilerden hangisi getirilmelidir?

- A) Antepli Şahin Bey
B) Ali Saip
C) Sütçü İmam
D) Kazım Karabekir

10.



Güney Cephesi'nde Fransız ve Ermenilere karşı mücadele eden illerimiz, yukarıda verilen balonların hangisinde yer almıştır?

- A) 1. B) 2. C) 3. D) 4.